



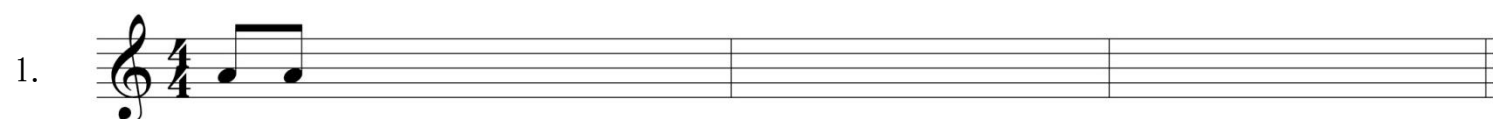
臺北市○○○學年度國民中學藝術才能音樂班聯合招生鑑定術科測驗

# 聽寫示例


一、音程 寫出下列音程的完全名稱，例如：大二度，完全五度…等。(複音程以單音程計算)

1
度


二、節奏



三、曲調



四、二聲部



五、和絃判斷 (包含：大三、小三及屬七和絃。)

1
和絃